

DST n°4 Spécialité Physique-Chimie -

Durée de l'épreuve : 1h30

L'usage de la calculatrice est autorisé.

Le sujet comporte 1 exercice présenté sur 3 pages. Le candidat doit soigner la rédaction et la présentation.

Le Cornhole, contraction des mots anglais « corn » et « hole » voulant dire « maïs » et « trou » est un jeu de plein air pratiqué entre autres aux Etats-Unis et au Canada.

Les règles de ce jeu sont assez simples. Chaque joueur est muni de quatre petits sacs contenant du maïs qu'il doit lancer en direction d'une planche inclinée par rapport à l'horizontale munie d'un trou circulaire et située environ à 8 mètres du joueur. À chaque fois qu'un sac retombe sur la planche, le joueur marque un point ; si le sac passe par le trou circulaire, le joueur marque trois points. Le premier joueur qui marque 21 points gagne la partie.

On étudie dans cet exercice les aspects énergétiques du lancer du sac puis le mouvement du centre de masse du sac dans le référentiel terrestre supposé galiléen.

Données :

- Intensité de la pesanteur terrestre : $g = 9,81 \text{ m.s}^{-2}$
- Masse du sac : $m = 440 \text{ g}$

Un joueur se place à une distance d de la planche afin de réaliser un lancer de son sac de maïs. La situation est représentée sur la *figure 1* ci-dessous. Afin de simplifier l'étude, la planche est considérée quasi-horizontale. Dans le repère d'espace (Ox, Oz) muni des vecteurs unitaires \vec{i} et \vec{k} , le sac de maïs est lancé, depuis une hauteur initiale H , avec une vitesse initiale dont le vecteur \vec{v}_0 est incliné d'un angle α par rapport à l'horizontale. On s'intéresse au mouvement du centre de masse G du sac. L'axe (Oz) du repère d'espace est vertical.

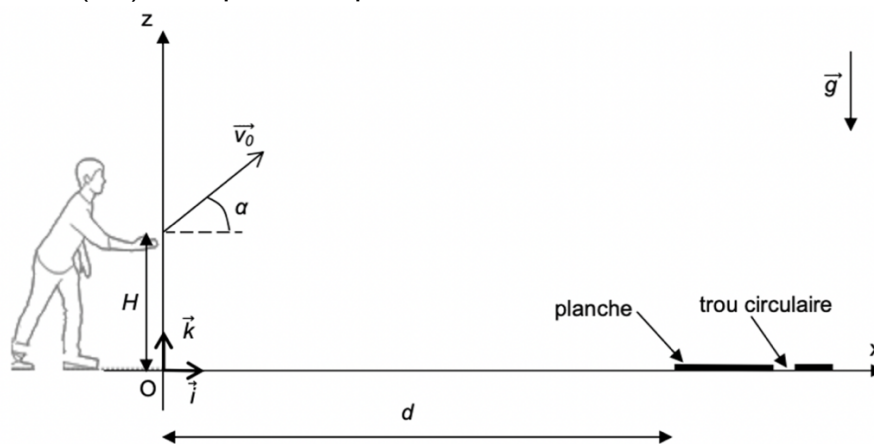


Figure 1. Schéma représentant la situation du lancer du sac

PARTIE 1 : ÉTUDE ÉNERGÉTIQUE

Le mouvement complet du sac est filmé puis étudié à l'aide d'un logiciel de pointage. Les données de la partie ascendante du mouvement sont traitées à l'aide d'un programme écrit en langage python (extrait en *figure 2*) qui permet de représenter l'évolution au cours du temps des énergies cinétiques (E_c), potentielle de pesanteur (E_{pp}) et mécanique (E_m) du sac (*figure 3*).

Q1. Identifier les grandeurs calculées dans l'extrait du programme écrit en langage python (figure 2 ci-après) aux lignes 15, 16, 17 et 18.

```

1  #importation des bibliothèques utilisées
2  import numpy as np
3  import matplotlib.pyplot as plt
4
5  # valeurs experimentales
6  z=np.array([0.869,0.996,1.17,1.3,1.41,1.51,1.6,1.67,1.75,1.82,1.86,1.92,1.94,1.94,1.97,1.96,1.96])
7  t=np.array([0,0.033,0.067,0.1,0.133,0.167,0.2,0.233,0.267,0.3,0.333,0.367,0.4,0.433,0.467,0.5,0.533])
8  vx=np.array([7.61,7.66,7.712,7.517,7.595,7.578,7.334,7.39,7.329,7.184,7.239,7.116,7.065,7.119,6.997,7.006,6.997])
9  vz=np.array([4.8,4.484,4.158,3.797,3.219,2.787,2.515,2.314,2.008,1.827,1.447,0.9539,0.7198,0.3329,0.1782,
10 -0.02958,-0.4165])
11
12 #Calcul des énergies
13 m=0.440
14 g=9.81
15 ? = (vx**2 + vz**2)**(1/2)
16 ? = 0.5*m*v**2
17 ? = m*g*z
18 ? = 0.5*m*v**2 + m*g*z
19

```

Figure 2. Extrait du programme écrit en langage Python

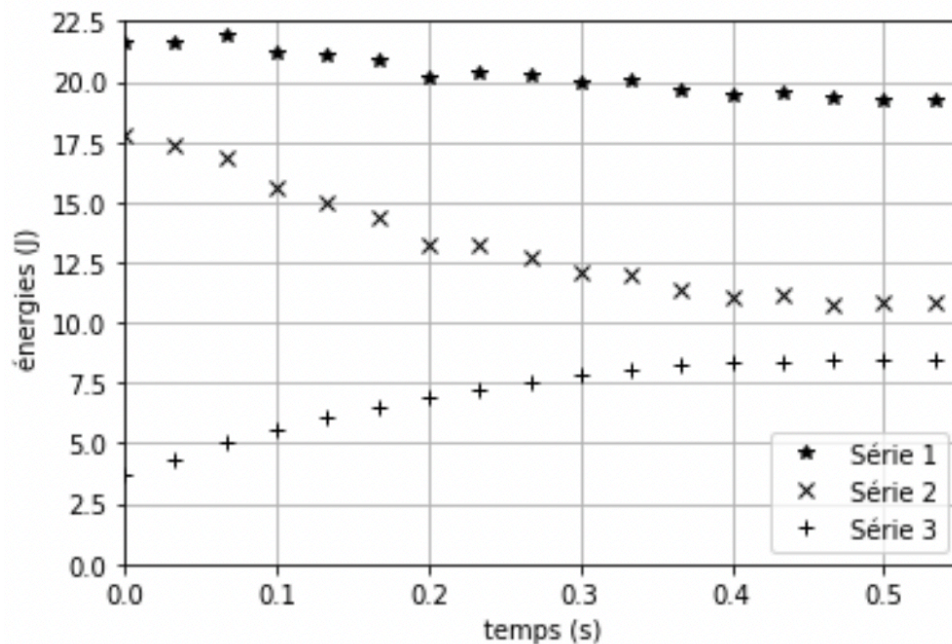


Figure 3. Évolution des énergies cinétique, potentielle de pesanteur et mécanique du sac au cours du temps obtenue à l'aide du programme écrit en langage python.

En analysant la figure 3, répondre aux questions suivantes :

Q2. En justifiant votre choix, attribuer à chaque série l'énergie qui lui correspond.

Q3. Expliquer en quoi les résultats expérimentaux permettent de considérer que l'action de l'air sur le sac n'est pas négligeable devant le poids du sac.

Q4. Estimer la valeur de la vitesse initiale v_0 du centre de masse du sac.

Q5. Estimer la valeur de l'altitude initiale H du centre de masse du sac. Cette valeur semble-t-elle cohérente avec la figure 1 ?

PARTIE 2 : ÉTUDE DU MOUVEMENT DU SAC APRES LE LANCER

On souhaite étudier la chute du sac au cours du temps. La situation est toujours représentée sur la *figure 1*. Les frottements ne seront pas pris en compte dans cette partie.

On souhaite établir les expressions littérales des grandeurs accélération, vitesse et position du sac lors de son mouvement, ainsi que les caractéristiques (vitesse initiale et direction initiale) nécessaires à la réussite d'un lancer valant trois points.

Les dimensions de la planche sont précisées sur la *figure 4* ci-après :

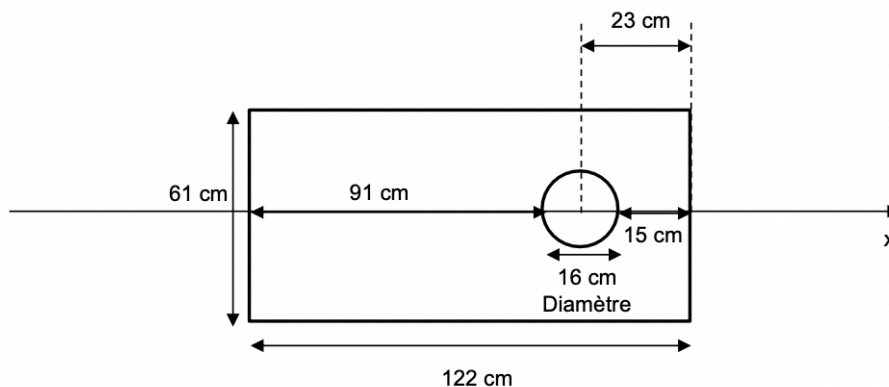


Figure 4. Dimensions de la planche de Cornhole

Q6. En appliquant la deuxième loi de Newton, déterminer les expressions littérales des coordonnées a_x et a_z du vecteur accélération \vec{a} du centre de masse du sac suivant les axes Ox et Oz.

Q7. En déduire les expressions littérales des équations horaires $x(t)$ et $z(t)$ de la position du centre de masse du sac au cours du mouvement.

Q8. Montrer que l'équation littérale de la trajectoire du centre de masse du sac dans le repère d'espace (Ox, Oz) est : $z(x) = -\frac{1}{2}g \times \frac{x^2}{v_0^2 \times \cos^2(\alpha)} + x \tan(\alpha) + H$

Qualifier cette trajectoire.

Q9. Indiquer les paramètres initiaux de lancement sur lesquels le joueur peut avoir une influence et qui jouent un rôle pour la réussite d'un lancer à trois points.

Le joueur effectue un premier lancer. L'équation de la trajectoire du centre de masse du sac a pour expression numérique : $z(x) = -0,0842 x^2 + 0,625 x + 0,880$ avec x et z en m.

La distance d qui sépare l'origine O du repère d'espace et le bord de la planche est égale à $d = 8,0$ m.

Q10. Déterminer le nombre de point(s) marqué(s) par le joueur pour ce lancer.

Q11. Le joueur effectue un second lancer en conservant le même angle de tir α , la même hauteur initiale H mais en modifiant la valeur de la vitesse initiale par rapport au premier lancer.

Déterminer une valeur possible de la nouvelle vitesse initiale v_0 , afin que le sac tombe directement dans le trou. Commenter la valeur obtenue.

Le candidat est invité à prendre des initiatives et à présenter la démarche suivie, même si elle n'a pas abouti. La démarche est évaluée et nécessite d'être correctement présentée.